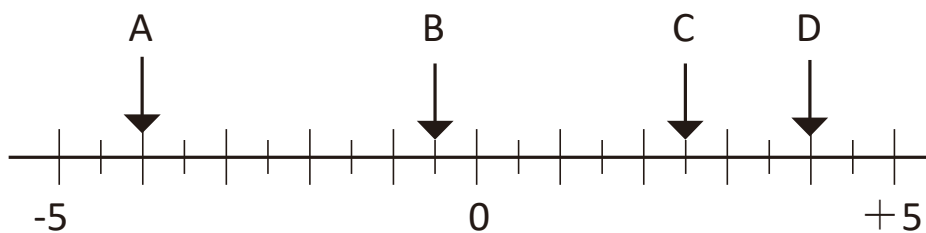


中1 数学	学習日	単元：正負の数	氏名	得点
	/	正負の数を数直線で表す①		/9

① 次の数直線で、A, B, C, D にあたる数を書きなさい。



A	B	C	D
---	---	---	---

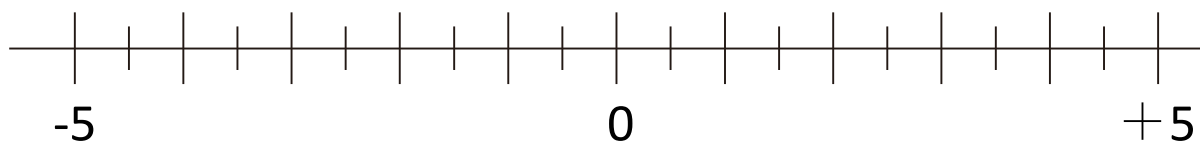
② 次の数を数直線上に書きなさい。

① -2

② + 1.5

③ -4.5

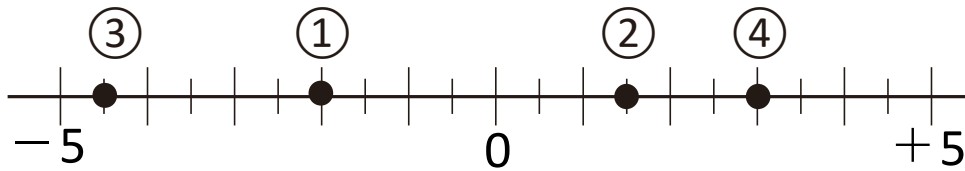
④ + 3



③ 数直線上で -2.5 と +1.5 の間にある整数をすべて求めなさい。

- ① A: -4 B: -0.5 C: $+2.5$ D: $+4$

②



- ③ $-2, -1, 0, +1$

