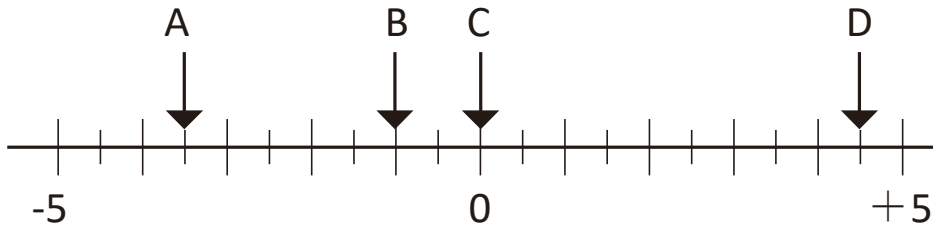


中1 数学	学習日	単元：正負の数	氏名	得点
	/	正負の数を数直線で表す②		/9

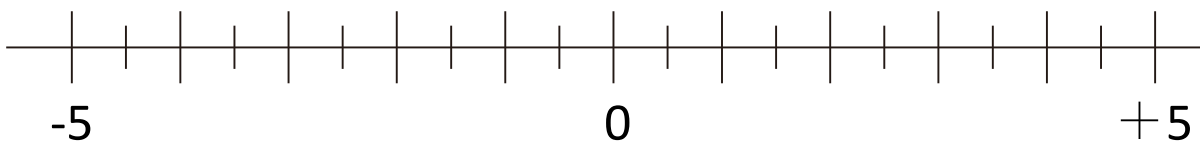
① 次の数直線で、A, B, C, Dにあたる数を書きなさい。



A	B	C	D
---	---	---	---

② 次の数を数直線上に書きなさい。

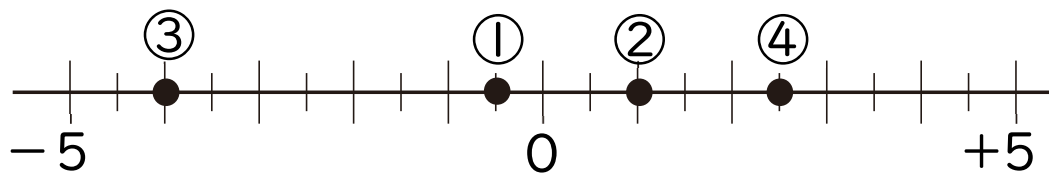
- ①  $-0.5$                       ②  $+1$                       ③  $-4$                       ④  $+2.5$



③ 数直線上で  $-3.5$  と  $+\frac{1}{2}$  の間にある整数をすべて求めなさい。

- ① A:  $-3.5$                       B:  $-1$                       C:  $0$                       D:  $+4.5$

②



- ③  $-3, -2, -1, 0$

