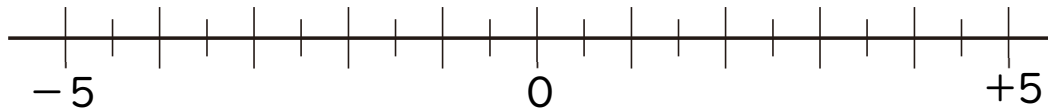


中1 数学	学習日	単元：正負の数	氏名	得点
	/	正負の数の加法－導入①		/10

① 数直線を使って、次の数を求めなさい。



① -5 より 4 大きい数を求めなさい。

② -3 より 7 大きい数を求めなさい。

③ 1 より -3 大きい数を求めなさい。

④ -3 より -2 大きい数を求めなさい。

② 次の□にあてはまる+または-を書きなさい。

①  $(+5) + (-9)$

$$= \square (9 \square 5)$$

$$= \square 4$$

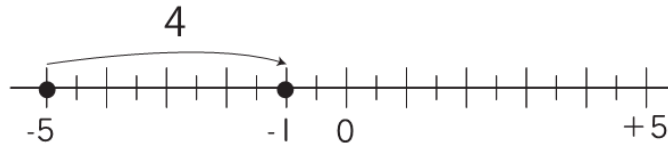
②  $(-4) + (-8)$

$$= \square (4 \square 8)$$

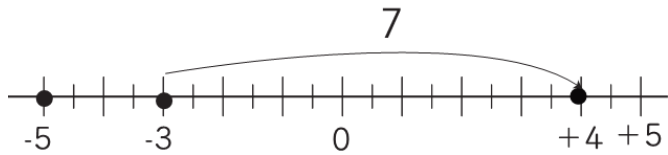
$$= \square 12$$

1

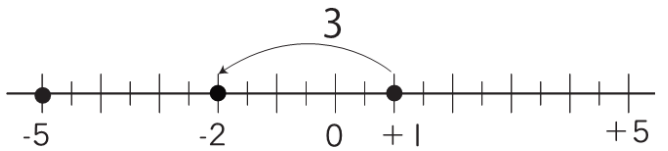
①  $-1$



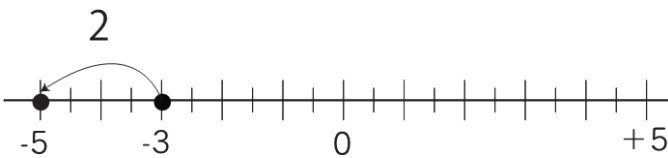
②  $+4$



③  $-2$



④  $-5$



2 次の□にあてはまる+または-を書きなさい。

①  $(+5) + (-9)$

$= \square (9 \square 5)$

$= \square 4$

②  $(-4) + (-8)$

$= \square (4 \square 8)$

$= \square 12$