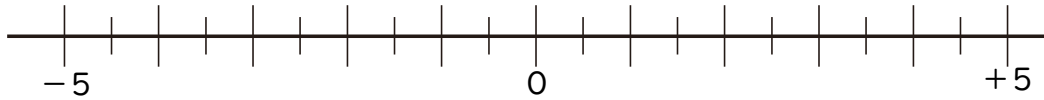


中1 数学	学習日	単元：正負の数	氏名	得点
	/	正負の数の減法①-導入		/10

1 数直線を使って、次の数を求めなさい。



- ① 2 より 5 小さい数を求めなさい。 ② -1 より 3 小さい数を求めなさい。
- ③ 2 より -2 小さい数を求めなさい。 ④ -3 より -2 小さい数を求めなさい。

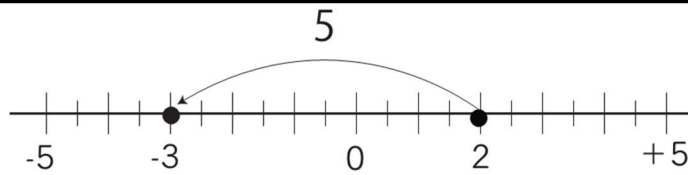
2 次の□にあてはまる+または-を書きなさい。

$$\begin{aligned}
 & \textcircled{1} (-5) - (+2) \\
 & = (\square 5) + (\square 2) \\
 & = \square 7
 \end{aligned}$$

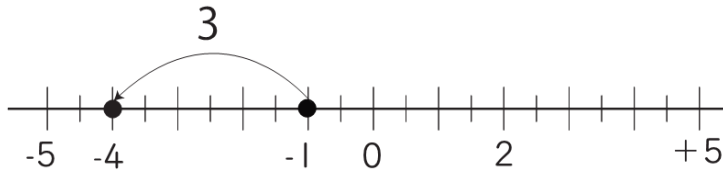
$$\begin{aligned}
 & \textcircled{2} (-4) - (-3) \\
 & = (\square 4) + (\square 3) \\
 & = \square 1
 \end{aligned}$$

①

① -3



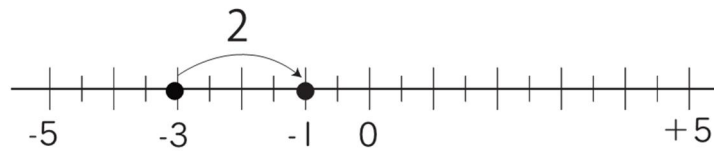
② -4



③ $+4$



④ -1



②

① $(-5) - (+2)$

$$= (-5) + (-2)$$

$$= -7$$

③ $(-4) - (-3)$

$$= (-4) + (+3)$$

$$= -1$$